



Student ID

(.....)

0	1	2	3	4	5	6	7	8	9
0	1	2	3	4	5	6	7	8	9
0	1	2	3	4	5	6	7	8	9
0	1	2	3	4	5	6	7	8	9
0	1	2	3	4	5	6	7	8	9

اسم الطالب :

اسم المادة :

الفرقة : 2 3 4

الفصل الدراسي : 1

رقم النموذج : 2 3 4 5 6 7 8

1	A	B	C	D	31	A	B	C	D	61	A	B	C	D	91	A	B	C	D
2	A	B	C	D	32	A	B	C	D	62	A	B	C	D	92	A	B	C	D
3	A	B	C	D	33	A	B	C	D	63	A	B	C	D	93	A	B	C	D
4	A	B	C	D	34	A	B	C	D	64	A	B	C	D	94	A	B	C	D
5	A	B	C	D	35	A	B	C	D	65	A	B	C	D	95	A	B	C	D
6	A	B	C	D	36	A	B	C	D	66	A	B	C	D	96	A	B	C	D
7	A	B	C	D	37	A	B	C	D	67	A	B	C	D	97	A	B	C	D
8	A	B	C	D	38	A	B	C	D	68	A	B	C	D	98	A	B	C	D
9	A	B	C	D	39	A	B	C	D	69	A	B	C	D	99	A	B	C	D
10	A	B	C	D	40	A	B	C	D	70	A	B	C	D	100	A	B	C	D
11	A	B	C	D	41	A	B	C	D	71	A	B	C	D	101	A	B	C	D
12	A	B	C	D	42	A	B	C	D	72	A	B	C	D	102	A	B	C	D
13	A	B	C	D	43	A	B	C	D	73	A	B	C	D	103	A	B	C	D
14	A	B	C	D	44	A	B	C	D	74	A	B	C	D	104	A	B	C	D
15	A	B	C	D	45	A	B	C	D	75	A	B	C	D	105	A	B	C	D
16	A	B	C	D	46	A	B	C	D	76	A	B	C	D	106	A	B	C	D
17	A	B	C	D	47	A	B	C	D	77	A	B	C	D	107	A	B	C	D
18	A	B	C	D	48	A	B	C	D	78	A	B	C	D	108	A	B	C	D
19	A	B	C	D	49	A	B	C	D	79	A	B	C	D	109	A	B	C	D
20	A	B	C	D	50	A	B	C	D	80	A	B	C	D	110	A	B	C	D
21	A	B	C	D	51	A	B	C	D	81	A	B	C	D	111	A	B	C	D
22	A	B	C	D	52	A	B	C	D	82	A	B	C	D	112	A	B	C	D
23	A	B	C	D	53	A	B	C	D	83	A	B	C	D	113	A	B	C	D
24	A	B	C	D	54	A	B	C	D	84	A	B	C	D	114	A	B	C	D
25	A	B	C	D	55	A	B	C	D	85	A	B	C	D	115	A	B	C	D
26	A	B	C	D	56	A	B	C	D	86	A	B	C	D	116	A	B	C	D
27	A	B	C	D	57	A	B	C	D	87	A	B	C	D	117	A	B	C	D
28	A	B	C	D	58	A	B	C	D	88	A	B	C	D	118	A	B	C	D
29	A	B	C	D	59	A	B	C	D	89	A	B	C	D	119	A	B	C	D
30	A	B	C	D	60	A	B	C	D	90	A	B	C	D	120	A	B	C	D

د. محمود محمد نجيب



تمارين ١

بداية التربية الرياضية - وحدة بها
لم تدرت بنشاطات رياضية
فقط : الاجت
التمرين : ١٤ / ٢٠١٦ / ٢٠١٦
عنوان : ٧ - صفت
التمرين : ٢٠ / ٢٠١٦ / ٢٠١٦
عنوان : ٧ - صفت
التمرين : ٢٠ / ٢٠١٦ / ٢٠١٦
عنوان : ٧ - صفت

تابع السؤال الاول * سؤال الاختيار من متعدد * (لم يتطابق الهدف الذي يدل على الاجابة الصحيحة)

- ١٢- بعد اوقات المستطمة اقل مدد في مباراة كرة سلة .
 - ١- اربعة
 - ٢- ثمانية
 - ٣- ثمانية عشر
 - ٤- اربعة عشر
- ١٣- بعد التقليل من التربة مسافة
 - ١- ١٥ متر
 - ٢- ٢٥ متر
 - ٣- ٤٥ متر
 - ٤- ٣٥ متر
- ١٤- فروع اسلح اليد
 - ١- المرفق للفتح
 - ٢- مسك الكرة بطرف
 - ٣- وضع راحة اليد على
 - ٤- على جاني الكرة
- ١٥- زمن الرحلة بين الكرة الاولى والثانية او الثالثة والرابعة دقيقة .
 - ١- ١٠
 - ٢- ١٥
 - ٣- ٢٠
 - ٤- ٣٠
- ١٦- في زمن الكرة في مباراة كرة سلة .
 - ١- ١٠ دقائق
 - ٢- ٢٠ دقيقة
 - ٣- ٣٠ دقيقة
 - ٤- ٤٥ دقيقة
- ١٧- في لعبة كرة السلة وقت المستطع الواحد .
 - ١- ١٠ ثواني
 - ٢- ١٢ ثواني
 - ٣- ٤٥ ثواني
 - ٤- ٦٠ ثواني
- ١٨- في المباراة التي يتوقف عليها نتيجة المباراة ، وهي المرحلة النهائية لتخطي التمرين .
 - ١- التصويب
 - ٢- التمرير
 - ٣- الارتداد
 - ٤- المحاورة
- ١٩- المستطع عندما تحدث كرة مسبوقة او يتلقى على الكرة لاعبين أو أكثر من كلا الفريقين المتنافسين .
 - ١- رمية الكرة
 - ٢- رمية الركن
 - ٣- رمية التاج
 - ٤- رمية الحرة
- ٢٠- تختص ارضية التاج من رمية الكرة
 - ١- بثلثي
 - ٢- بثلث
 - ٣- اربعة
 - ٤- ثلثة
- ٢١- في السلة عن تومن اسما ورايم الاضيق ويوزن أي تعلق بهم اوزانهم ويملكه الاخطاء التي تحت .
 - ١- الحكم الرئيسي
 - ٢- التوقيت
 - ٣- مراقب المباراة
 - ٤- المسجل
- ٢٢- تقسم مباراة اسلح الكرة إلى
 - ١- باثنيين واربعة
 - ٢- باثنيين وثلثين
 - ٣- جميع ما سبق
 - ٤- باثنيين واربعة
- ٢٣- في من الاخطاء الممنوعة في اسلح الكرة .
 - ١- عدم التخطي
 - ٢- عدم التراجع باتجاه
 - ٣- عدم التخطي
 - ٤- عدم التخطي
- ٢٤- في عدد طولة (٥) مس خارج مساحة السلة وخطي خط التوقيت ، يقبل طولة الحكم ويمنع عن خط التهديف .
 - ١- ٢٣٥ (٥) متر
 - ٢- ٢٣٥ (٥) متر
 - ٣- ٢٣٥ (٥) متر
 - ٤- ٢٣٥ (٥) متر





تمارين ١

بداية التربية الرياضية - وحدة بها
لم تدرت بنشاطات رياضية
فقط : الاجت
التمرين : ١٤ / ٢٠١٦ / ٢٠١٦
عنوان : ٧ - صفت
التمرين : ٢٠ / ٢٠١٦ / ٢٠١٦
عنوان : ٧ - صفت
التمرين : ٢٠ / ٢٠١٦ / ٢٠١٦
عنوان : ٧ - صفت

السؤال الاول * سؤال الاختيار من متعدد * (لم يتطابق الهدف الذي يدل على الاجابة الصحيحة)



- ١- في التهيئة الوجعية التمرير اللصبي بالكرة .
 - ١- المحاورة
 - ٢- التصويب
 - ٣- التخطي
 - ٤- التمرير
- ٢- مستطع كرة واحدة وتحدث عندما يتلقى الحكم الكرة بينما أو لاعبين متنافسين .
 - ١- المحاورة
 - ٢- المحاورة
 - ٣- رمية الركن
 - ٤- رمية الكرة
- ٣- من انواع مباراة المحاوره بالكرة
 - ١- من اعلى ومن اسفل
 - ٢- بيد واحدة و باثنيين
 - ٣- جميع ما سبق
 - ٤- جميع ما سبق
- ٤- في التمرير المركزية في منتصف مساحة السلة يشرف قطر .
 - ١- ١٧٠ متر
 - ٢- ١٥٠ متر
 - ٣- ١٢٠ متر
 - ٤- ١٠٠ متر
- ٥- تتكون مباراة كرة السلة من كرة .
 - ١- خمسة
 - ٢- اربعة
 - ٣- ثلثة
 - ٤- اثنان
- ٦- من الخطى الرئيسية عند تعليم مباراة المحاوره بكرة .
 - ١- عدم حيازة الكرة
 - ٢- الانتظار نحو الكرة دائما
 - ٣- الانتقاء المناسب
 - ٤- الانتقاء المناسب
- ٧- تصير مباراة التمرير الحرة من المباريات .
 - ١- الهجومي
 - ٢- الهجومي
 - ٣- الهجومي
 - ٤- الهجومي
- ٨- في المباراة الواحدة التي تلعب اربعة للاعبين يتغيرها يكون عددها .
 - ١- التمرير المزدوج
 - ٢- التصويب المزدوج
 - ٣- التمرير المزدوج
 - ٤- التصويب المزدوج
- ٩- الوقت هو قطع اليد (المثلث) للتمرير ويطلب من المدرب أو مساعد المدرب إعطاء التعليمات .
 - ١- التمرير
 - ٢- التصويب
 - ٣- التمرير
 - ٤- التصويب
- ١٠- تقسم مباراة التصويب في كرة السلة .
 - ١- بيد واحدة و باثنيين
 - ٢- باليد
 - ٣- باليد واليد
 - ٤- باليد واليد
- ١١- بعد التمرير الممنوع بها اقل مدد في مباراة كرة سلة .
 - ١- خمسة في كل كرة
 - ٢- اربعة لكل كرة
 - ٣- اربعة لكل كرة
 - ٤- اربعة لكل كرة

	
نموذج ١ تم تصميمه في سنة ٢٠١٧/٢٠١٨ تم تطويره في سنة ٢٠١٧/٢٠١٨ تم مراجعته في سنة ٢٠١٧/٢٠١٨ تم تحديثه في سنة ٢٠١٧/٢٠١٨	تم تصميمه في سنة ٢٠١٧/٢٠١٨ تم تطويره في سنة ٢٠١٧/٢٠١٨ تم مراجعته في سنة ٢٠١٧/٢٠١٨ تم تحديثه في سنة ٢٠١٧/٢٠١٨

السؤال الرابع • ظلل الحرف الذي يلائم على الفصح سواء كان خطأ أو مخالفاً •

مخالفة (ب)	خطأ (د)
------------	---------

١٥. تمت لمس القوة بالقمح .
١٦. يظل لاصح لاكثر من ثلاث ثواني متتالية في المنطقة المحيطة بالعاصمة يطبق المتأخرين حينما تكون القوة في حيزها قريبه على ارض المنح والخاصة مداره .
١٧. استحوذ لاصح على القوة وهي في حله نص في المنطقة الخلفية لقوية ولكن من (٩) طرفي .
١٨. تجاهل تنبيهات الحكام ، لمس الحكام ، ابارس الطاقوة او المتخلص على الطريق بدون احترام
١٩. تعلق الشرازة بملبس المتصد للقوة بعد ان تتفرق السنة او باضافة رمية اوجحان من ان تتلا قويا .
٢٠. عندما يتسبب لاصح في اضرار القوة للمنطقة الخلفية بعد ان كان قريبه مستحوذا على القوة في المنطقة الامامية .
٢١. عندما يمتدح الطريق للقوة لاكثر من ٢٤ ثقبه دون ان يحاول التصويب على السنة في تلك فوفت
٢٢. عندما يقوم لاصح باجرائين او يدغ او حرقه تقيم أي لاصح متأخرين .

	
نموذج ١ تم تصميمه في سنة ٢٠١٧/٢٠١٨ تم تطويره في سنة ٢٠١٧/٢٠١٨ تم مراجعته في سنة ٢٠١٧/٢٠١٨ تم تحديثه في سنة ٢٠١٧/٢٠١٨	تم تصميمه في سنة ٢٠١٧/٢٠١٨ تم تطويره في سنة ٢٠١٧/٢٠١٨ تم مراجعته في سنة ٢٠١٧/٢٠١٨ تم تحديثه في سنة ٢٠١٧/٢٠١٨

السؤال الثالث • سويل المسح والحكام •





٥٤. يمثل دور السائق في ضبط الوقت وقبضه أثناء فترات المباراة وأثناء الأوقات المستقطبة وفترات الراحة ويمكنه من ايجاد التوجيه المناسبة لمساعدة المباراة .
٥٥. عند استلام القوة من الأملر أو الجانب يجب التزم بخطوات سرورية في ايجاد القوة .
٥٦. من الأخطاء الشائعة عند تعلم مهارة المشوارة بالكرة النظر نحو الكرة دائما .
٥٧. يجب تصميم تدريبات تعلم المهارات الاساسية قبل شرح المهارة وتقديم نموذج للاداء .
٥٨. تمتد الكرة الزكيك وتستخدم التراجع العمودية اما عليها في وقت واحد بالإضافة لقوية لرمح اليد لكي يمتدح لاصح القوة السرعة فلازمة للتصويب في مهارة التصويب من التلات .
٥٩. تتحدد منطقة التصويب ب ٣ نقاط يقوس دائرة نصف قطرها (١.٧٥) متر مقل من نقطة وسطية أسفل منتصف سنة الطريق المتأخرين .
٦٠. خطي الجانب وخطي النهاية يتجزوا جزءا من مساحة التلات .

السؤال الثالث • ظلل من العود (١) ما يليه من العود (ب) •

(ب)	(أ)
هي كل مساحة ارض المنح باستثناء المنطقة القريبة من سنة المتأخرين والمحددة يقوس نصف قطر (١.٧٥) م ، يكون مركز نقطة أسفل منتصف السنة .	١١. منطقة الرمية الحرة
هي المساحة المستوية المرسومة أسفل السنة ، والمحمورة بين خطي النهاية وخط الرمية الحرة ويعرض (٤.٩٠) م .	١٢. منطقة التصويب ب التلات
هي مساحة ارض المنح الموجودة أسفل سنة الطريق نفسه ، والمحددة بخطي النهاية وخط منتصف المنح وخطي الجانب .	١٣. المنطقة المحرمة
هي مساحة قوس الرمية الحرة بنصف قطر (١.٨٠) م بالإضافة إلى المساحة المرسومة أسفل السنة بطول (٥.٨٠)م وعرض (٤.٩٠) م .	١٤. المنطقة الخلفية





موضوع ١		السؤال الخامس	
عدد ذرة البروتون	٢٠١١/٢٠١٢	عدد ذرة البروتون	٢٠١١/٢٠١٢
عدد ذرة النيوترون	١٢٦٣	عدد ذرة النيوترون	١٢٦٣
عدد ذرة الإلكترون	٧	عدد ذرة الإلكترون	٧
عدد ذرة البروتون	٢٠١١/٢٠١٢	عدد ذرة البروتون	٢٠١١/٢٠١٢
عدد ذرة النيوترون	١٢٦٣	عدد ذرة النيوترون	١٢٦٣
عدد ذرة الإلكترون	٧	عدد ذرة الإلكترون	٧

١) • يظن الحرف الذي يظن على ترميز المحافظة الحكومية المناسبة في كرة السلة .

			
A	B	C	D

- ٧٣ . تنظيم مزيج (الليل دون)
- ٧٤ . حمل الكرة .
- ٧٥ . المشي بالكرة .
- ٧٦ . إرجاع الكرة للمنطقة الحرة .

٢) • يظن الحرف الذي يظن على ترميز الإجراء الصحيحة المناسبة في كرة السلة .

			
A	B	C	D

- ٧٧ . محاولة التصويب بثلاثة نقاط .
- ٧٨ . تسجيل نقطتين .
- ٧٩ . تسجيل ثلاثة نقاط .
- ٨٠ . إلقاء تسجيل الإصبع أو النقاط .

السؤال الخامس

١) أذكر ثلاثة تصنيفات للمهارات الأساسية في رياضة كرة السلة ؟



Student ID

(.....)

اسم الطالب : د. محمود محمد حبيب... كرتة بسلة

اسم المادة :

الفرقة : 2 3 4

الفصل الدراسي : 1

رقم النموذج : 1 3 4 5 6 7 8

0	1	2	3	4	5	6	7	8	9
0	1	2	3	4	5	6	7	8	9
0	1	2	3	4	5	6	7	8	9
0	1	2	3	4	5	6	7	8	9
0	1	2	3	4	5	6	7	8	9

1	<input checked="" type="radio"/>	B	C	D	31	A	B	C	<input checked="" type="radio"/>	61	A	<input checked="" type="radio"/>	C	D	91	A	B	C	D
2	<input checked="" type="radio"/>	B	C	D	32	<input checked="" type="radio"/>	B	C	D	62	A	<input checked="" type="radio"/>	C	D	92	A	B	C	D
3	A	<input checked="" type="radio"/>	C	D	33	A	<input checked="" type="radio"/>	C	D	63	<input checked="" type="radio"/>	B	C	D	93	A	B	C	D
4	A	<input checked="" type="radio"/>	C	D	34	A	<input checked="" type="radio"/>	C	D	64	<input checked="" type="radio"/>	B	C	D	94	A	B	C	D
5	<input checked="" type="radio"/>	B	C	D	35	A	B	C	<input checked="" type="radio"/>	65	A	<input checked="" type="radio"/>	C	D	95	A	B	C	D
6	A	<input checked="" type="radio"/>	C	D	36	<input checked="" type="radio"/>	B	C	D	66	<input checked="" type="radio"/>	B	C	D	96	A	B	C	D
7	A	<input checked="" type="radio"/>	C	D	37	A	B	C	<input checked="" type="radio"/>	67	<input checked="" type="radio"/>	B	C	D	97	A	B	C	D
8	<input checked="" type="radio"/>	B	C	D	38	A	<input checked="" type="radio"/>	C	D	68	<input checked="" type="radio"/>	B	C	D	98	A	B	C	D
9	<input checked="" type="radio"/>	B	C	D	39	<input checked="" type="radio"/>	B	C	D	69	A	<input checked="" type="radio"/>	C	D	99	A	B	C	D
10	<input checked="" type="radio"/>	B	C	D	40	A	B	C	<input checked="" type="radio"/>	70	A	B	<input checked="" type="radio"/>	D	100	A	B	C	D
11	<input checked="" type="radio"/>	B	C	D	41	A	B	<input checked="" type="radio"/>	D	71	A	B	C	<input checked="" type="radio"/>	101	A	B	C	D
12	A	<input checked="" type="radio"/>	C	D	42	A	B	C	<input checked="" type="radio"/>	72	<input checked="" type="radio"/>	B	C	D	102	A	B	C	D
13	A	<input checked="" type="radio"/>	C	D	43	A	<input checked="" type="radio"/>	C	D	73	A	<input checked="" type="radio"/>	C	D	103	A	B	C	D
14	<input checked="" type="radio"/>	B	C	D	44	A	<input checked="" type="radio"/>	C	D	74	<input checked="" type="radio"/>	B	C	D	104	A	B	C	D
15	A	<input checked="" type="radio"/>	C	D	45	A	B	C	<input checked="" type="radio"/>	75	A	B	C	<input checked="" type="radio"/>	105	A	B	C	D
16	A	<input checked="" type="radio"/>	C	D	46	A	B	C	<input checked="" type="radio"/>	76	A	B	<input checked="" type="radio"/>	D	106	A	B	C	D
17	A	<input checked="" type="radio"/>	C	D	47	A	B	<input checked="" type="radio"/>	D	77	A	<input checked="" type="radio"/>	C	D	107	A	B	C	D
18	A	<input checked="" type="radio"/>	C	D	48	<input checked="" type="radio"/>	B	C	D	78	<input checked="" type="radio"/>	B	C	D	108	A	B	C	D
19	A	<input checked="" type="radio"/>	C	D	49	A	B	<input checked="" type="radio"/>	D	79	A	B	<input checked="" type="radio"/>	D	109	A	B	C	D
20	<input checked="" type="radio"/>	B	C	D	50	A	B	C	<input checked="" type="radio"/>	80	A	B	C	<input checked="" type="radio"/>	110	A	B	C	D
21	<input checked="" type="radio"/>	B	C	D	51	<input checked="" type="radio"/>	B	C	D	81	A	B	C	D	111	A	B	C	D
22	A	<input checked="" type="radio"/>	C	D	52	A	B	<input checked="" type="radio"/>	D	82	A	B	C	D	112	A	B	C	D
23	A	<input checked="" type="radio"/>	C	D	53	<input checked="" type="radio"/>	B	C	D	83	A	B	C	D	113	A	B	C	D
24	<input checked="" type="radio"/>	B	C	D	54	A	B	C	<input checked="" type="radio"/>	84	A	B	C	D	114	A	B	C	D
25	A	<input checked="" type="radio"/>	C	D	55	A	B	<input checked="" type="radio"/>	D	85	A	B	C	D	115	A	B	C	D
26	A	B	<input checked="" type="radio"/>	D	56	<input checked="" type="radio"/>	B	C	D	86	A	B	C	D	116	A	B	C	D
27	<input checked="" type="radio"/>	B	C	D	57	<input checked="" type="radio"/>	B	C	D	87	A	B	C	D	117	A	B	C	D
28	A	B	<input checked="" type="radio"/>	D	58	A	B	C	<input checked="" type="radio"/>	88	A	B	C	D	118	A	B	C	D
29	<input checked="" type="radio"/>	B	C	D	59	A	B	<input checked="" type="radio"/>	D	89	A	B	C	D	119	A	B	C	D
30	A	<input checked="" type="radio"/>	C	D	60	A	B	C	<input checked="" type="radio"/>	90	A	B	C	D	120	A	B	C	D

د. محمود محمد حبيب


سؤال ٢
 مادة رياضية
 صفة: ٢٠١٧/٢٠١٨
 رقم فئوي: ٢٠١٧/٢٠١٨
 رقم فئوي: ٢٠١٧/٢٠١٨
 صفة: ٢٠١٧/٢٠١٨
 رقم فئوي: ٢٠١٧/٢٠١٨
 صفة: ٢٠١٧/٢٠١٨
 رقم فئوي: ٢٠١٧/٢٠١٨


السؤال الأول * سؤال الصح والخطأ *
 ٢٠. تتعدد مناطق التصويب بـ ٣ نقاط بدون دقة نصف قطر (١٠٠٧) متر مقاس من نقطة وسطية أسفل منتصف سلة الطريق المنطوق.

٢١. تمت الرميين ويتسلم الدفاع الضربة المصوبة لأنها على أي وقت واحد بالإضافة لضربة رابع اليد التي يطس اللاعب الكرة الضربة الثانية للتصويب في مهارة التصويب من الثبات.
 ٢٢. مطس كرة السلة يتم طلائه بدون راحة.

السؤال الثاني * سؤال الصح والخطأ * (١٠ نقطة) (كل مغزاة ٠,٢٠)

٢٣. من النقاط الأساسية عند تعلم مهارة الضربة بالكرة:

- ١- إبقاء المرفق دائما دفع الكرة بأصبع ضم حافة الكرة الظفر نحو الكرة دائما
- ٢- يستلزم مرة واحدة وثبات عينا يقف الحكم الكرة بين أي لاعبين متناهيين.
- ٣- كرة الظفر رمية الإحمال قزعة الضربة الضربة
- ٤- من أعلى راس عميقة وبمعدنية بيد واحدة و باليدين
- ٥- ترسم الدائرة الخارجية في منتصف ساحة اللعب بانصاف قطر
- ٦- ١٠,٥٠ متر ١٧٠,٠٠ متر ٨٠,٠٠ متر ١,٢٠ متر
- ٧- تكون مباراة كرة قسلة من قزعة
- ٨- أربعة اثنان ثلاثة خمسة
- ٩- هي الرمية الوحيدة للحركة اللاعب بالكرة:
- ١٠- التصويب التمرير الضربة
- ١١- تمرير الضربة المزدوجة من المهارات:
- ١٢- الهجومي الدفاعي
- ١٣- الهجومي الهجومي بدون كرة
- ١٤- من المباراة الوحيدة التي تطس فرصة للمهاجم لتلقيها بدون وجه مدافع:
- ١٥- الضربة المزدوجة الرمية المزدوجة الإرتكار التصويب المتسلي


سؤال ٢
 مادة رياضية
 صفة: ٢٠١٧/٢٠١٨
 رقم فئوي: ٢٠١٧/٢٠١٨
 رقم فئوي: ٢٠١٧/٢٠١٨
 صفة: ٢٠١٧/٢٠١٨
 رقم فئوي: ٢٠١٧/٢٠١٨
 صفة: ٢٠١٧/٢٠١٨
 رقم فئوي: ٢٠١٧/٢٠١٨

السؤال الأول * سؤال الصح والخطأ *
 (كل مغزاة ٠,٢٠ نقطة)

(لم يطس المرفق التي يدل على الإجابة الصحيحة ، و يستلزم المرفق التي يدل على الإجابة الخاطئة)

- ١. تتسم المهارات الأساسية في كرة السلة إلى مهارات هجومية ودفاعية وهجومية دفاعية .
- ٢. مطس كرة السلة يكون مسطح الشكل على من المرفق طولها (٢٨) متر ورجله (١٠) متر .
- ٣. عد استلم الكرة من الأقدام أو الجنب يجب التقدم بخطوات بطيئة في اتجاه الكرة .
- ٤. تبدأ المباراة في كرة السلة بالرمز المزدوج بين لاعبين أبيضين ، لاعب من كل فريق .
- ٥. يكون فرق كرة السلة من عد (١٦) لاعب .
- ٦. الضربة الضربة تستخدم في حالة وجود مدافع على مرمى من اللاعب المحارر ولكنه يهدف حديرة الكرة .

- ٧. خطي الجنب وخطي النهاية يشكلان جزءا من ساحة اللعب.
- ٨. يمثل مرفق المرمى في حافة الوقت وقلمه أثناء فترات الضربة المزدوجة والوقت المستطمة وفترات الراحة ويتألف من الأجزاء الضوئية لساحة المباراة.
- ٩. على الركب الطريق عد من الحفلات والأخطار في المباراة أكثر زود عد النقاط المسجلة في سلة أي كل تتابعه.
- ١٠. تطس كرة السلة بين (١) فريق يكون كل فريق من خمسة لاعبين.
- ١١. يسمح للفرق بتبادل لاعب أو أكثر خلال فرصة التبادل الواحدة.
- ١٢. ترزق الحفلة عن سطح الأرض مسافة ٣,٥٠ سم.
- ١٣. إذا انتهى زمن اللعبة الرابعة ببقاء الفريقين في النقاط يتم اللجوء لحد ٢ وقت إضافي.
- ١٤. يرمس خط التفتك بشكل متوازي مع خطي النهاية ، ويجب أن يمتد (١٥) سم خارج كل من خطي الجانب.

- ١٥. يجب تعيين كرتيات تعلم المهارات الأساسية قبل شرح المهارة وتقديم نموذج للاعب.
- ١٦. خط الرمية المزدوجة يكون موازيا لخط النهاية ، وطوله (٢٠١١) متر .
- ١٧. الأضواء اللثني لمهارة مسك الكرة يتضمن ضم أصابع اليدين على الكرة لإحتلال مساحة أكبر على جانبي الكرة.
- ١٨. من الأخطار الشائعة عند تعلم مهارة الضربة بالكرة الظفر نحو الكرة دائما .
- ١٩. يبقى اللاعب المستحضر على الكرة أو يخطئ من خارج حديه المتسبب خلال مدة لا تتجاوز ٦ ثواني.



تمارين ٢

عنوان التمرين :
المدة : ١٥ دقيقة
تاريخ : ١٠/١١/٢٠٢٠
الصف : ٧
الاسم :

تاريخ السؤال :
سؤال الاختبار من متعدد * (كم يتقبل الحرف اللام على الإجابة الصحيحة)

- ١- الحكم الرئيسي - المسمول - مرافق الجوار - المطلق
- ٢- تطبق مهارة استنتاج الحرف في
٣- بائنين واطنين - بائنين وبيد واحدة - جميع ما سبق
- ٤- هي من الأخطاء الشائعة في استنتاج الحرف :
٥- عدم الحفاظ على
٦- عدم التوازن بين
٧- على الحرف
٨- من خط إمارة (هـ) سم خارج ساحة الحرف وعلى خط الحرف يمثل إمارة التحكم ويبدأ عن الحد النهائي (هـ) سم
٩- خط الإمارة الحرف - خط المتوقف - خط الحرف - خط رمية الإمارة
- ١٠- يجب على التلميذ عند التصويب على سعة المتوقف خلال إمارة التحليل :
١١- ٨ ثمانية - ٥ ثمانية - ٢٤ ثمانية - ٣٠ ثمانية
- ١٢- تصنف مهارة الجوار ضمن المهارات :
١٣- الهجائية - صغرية - هجائية - هجائية صغرية
- ١٤- التلميح الرئيسية التي تكون مركز قوس المحرك المعتمد لمنطقه التصويب هي :
١٥- من الحد النهائي - من الخط النهائية وتوصف الإمارة التي لمهارة تصويب الرمية الحرف :
١٦- ١٠ سم - ١٢ سم - ١٠ سم - ١٠ سم
- ١٧- إنشاء عامل في
١٨- إنشاء عامل في
١٩- وضع الإمارة في
٢٠- وضع الإمارة في
٢١- وضع الإمارة في
٢٢- وضع الإمارة في
٢٣- وضع الإمارة في
٢٤- وضع الإمارة في
٢٥- وضع الإمارة في
٢٦- وضع الإمارة في
٢٧- وضع الإمارة في
٢٨- وضع الإمارة في
٢٩- وضع الإمارة في
٣٠- وضع الإمارة في



تمارين ٢

عنوان التمرين :
المدة : ١٥ دقيقة
تاريخ : ١٠/١١/٢٠٢٠
الصف : ٧
الاسم :

تاريخ السؤال :
سؤال الاختبار من متعدد * (كم يتقبل الحرف اللام على الإجابة الصحيحة)

- ١- الحكم الرئيسي - المسمول - مرافق الجوار - المطلق
- ٢- تطبق مهارة التصويب في حرة التلميح :
٣- كتابات الحروف - بيد واحدة و بائنين - من احدى ومن لامل - جميع ما سبق
- ٤- بعد التلميذ المسموع بها كل من حروف في إمارة حرة التلميح :
٥- أربعة لكل حرة - عدد لا نهائي - حرة - خمسة لكل حرة
- ٦- كم عدد الأوقات المستعملة لكل حرة في إمارة حرة التلميح :
٧- ثلاثة - خمسة - سبعة - أربعة
- ٨- بعد التلميح عن الارجحة المستعملة :
٩- ٤٥ سم - ٢٥ سم - ٢٠ سم - ١٥ سم
- ١٠- يعتبر من الأخطاء الشائعة في إمارة حرة التلميح :
١١- وضع إمارة الحرف على
١٢- وضع إمارة الحرف على
١٣- وضع إمارة الحرف على
١٤- وضع إمارة الحرف على
١٥- وضع إمارة الحرف على
١٦- وضع إمارة الحرف على
١٧- وضع إمارة الحرف على
١٨- وضع إمارة الحرف على
١٩- وضع إمارة الحرف على
٢٠- وضع إمارة الحرف على



نموذج ٢

مادة: جغرافيا - جغرافيا ٧٠٠
مادة: جغرافيا ٧٠٠
عدد فواصل: ٢٠
مدة الامتحان: ٤٥ دقيقة
الوقت: ٤٥ دقيقة
الوقت: ٤٥ دقيقة

السؤال الثالث: * صف خصائص الأراضي الرملية في مصر التي لا تصلح لزراعة القمح والذرة (٢٠ نقطة)

١٠- منطقة
١١- منطقة

- ١١. تجاهها تهبتيبات الحميم ، لمس الحكم ، الأراضي الطارية أو القلبيات معقد الطرق بدون احترام.
- ١٢. عندما يلزم لاصح بالتحسين أو نطق أو عرقه تقدم أو لاصح بالقلبي .
- ١٣. يستعمل لاصح على الكورة وهي في حجة نص في المنطقة القليلة الكورة اكثر من (١) ثواني.
- ١٤. عندما يتسبب لاصح في ايجاد الكورة للمنطقة القليلة بعد ان كان فريقه مستحوزا على الكورة في المنطقة الاجنبية .

١٥. تلتقط المبارزة باليمن المتعمد الكورة بعد ان تتحرك الكرة أو بإعطاء رمية الإرجاع من ان تتلق كوراً .

١٦. تصمد لمس الكورة بالقدم .

١٧. عندما يستطع طريق الكورة لأكثر من ٢٤ ثانية دون أن يحاول التصويب على الكرة في السنة في تلك الوقت .

١٨. يطلق للاصح لأكثر من ثلاث ثواني متتالية في المنطقة المحرمة الخاصة بالطريق المتناهي حينما تكون الكورة في حيازة فريقه على أرض الملعب والساعة حذارة .

السؤال الرابع: * اظهر من الصور (١) ما يتناسب من الصور (ب) . (كل صورة ٠٢٠ نقطة)

(ب)	(١)
في كل مساحة ارض الملعب باستثناء المنطقة القريبة من سنة المتناهي والمحددة بولوس نصف قطر (١.٧٥) م ، يكون مركزه نقطة اسفل منتصف السنة .	١٦. المنطقة المحرمة (A)
في المساحة المستطيلة المرسومة اسفل السنة ، والمحصورة بين خط النهاية وخط الزوية الحدة ويرض (٠.٩) م .	١٧. المنطقة القليلة (B)
في مساحة ارض الملعب الموجودة اسفل سنة الطريق نفسه ، والمحددة بخط النهاية وخط منتصف الملعب وخطي الجانب .	١٧. منطقة الزوية الحدة (C)
في مساحة قوس الزوية الحدة بنصف قطر (١.٨٠) م بالاقسطة التي المساحة المرسومة اسفل السنة بطول (٥.٨٠) م ورض (٠.٩) م .	١٧. منطقة التصويب (D)



نموذج ٢

مادة: جغرافيا - جغرافيا ٧٠٠
مادة: جغرافيا ٧٠٠
عدد فواصل: ٢٠
مدة الامتحان: ٤٥ دقيقة
الوقت: ٤٥ دقيقة
الوقت: ٤٥ دقيقة

السؤال الثاني: * سؤال الاختيار من متعدد * (قم بتظليل الحرف الذي يدل على الإجابة الصحيحة)

٥٤- ١٠- ١٥- ٢٠-
٢- ٣- ٤- ٥-
٥٤- ١٠- ١٥- ٢٠-
٢- ٣- ٤- ٥-
٥٤- ١٠- ١٥- ٢٠-
٢- ٣- ٤- ٥-
٥٤- ١٠- ١٥- ٢٠-
٢- ٣- ٤- ٥-
٥٤- ١٠- ١٥- ٢٠-
٢- ٣- ٤- ٥-
٥٤- ١٠- ١٥- ٢٠-
٢- ٣- ٤- ٥-

- ٥٤. إقليم التحكم في مبارزة كرة السلة يكون من عدد..... حكم
- ٢. تزييم خطوط الملعب يتفق الثلث ويسمى (.....) سم ، ويكون مزاوية بوضوح.
- ٥٤. يبلغ عرض المنطقة المحرمة..... متر
- ٥٨.٠. نوجة لتصويب يتكون داخل حدود الملعب ، ويذهب من الحد النهائي بمنطقة..... من الملعب .
- ١٢٠. إذا ألقى اللاعب المستحوذ على الكورة للمحورة الأولى ٤ ، ثم قام بإداء للمحورة مرة ثانية تغير.....
- ٥٤. يحق للطريق المستحوذ على الكورة نقل الكورة من منطقة القليلة إلى الأخرى خلال مدة لا تتجاوز.....

١٤. في حجة تحديد زمن الهجمة للطريق المستحوذ على الكورة إذا لمس الكورة الحدة التي..... ثلثية

السؤال الثالث: * اظهر من الصور (١) ما يتناسب من الصور (ب) . (كل صورة ٠٢٠ نقطة)

(ب)	(١)
في كل مساحة ارض الملعب باستثناء المنطقة القريبة من سنة المتناهي والمحددة بولوس نصف قطر (١.٧٥) م ، يكون مركزه نقطة اسفل منتصف السنة .	١٦. المنطقة المحرمة (A)
في المساحة المستطيلة المرسومة اسفل السنة ، والمحصورة بين خط النهاية وخط الزوية الحدة ويرض (٠.٩) م .	١٧. المنطقة القليلة (B)
في مساحة ارض الملعب الموجودة اسفل سنة الطريق نفسه ، والمحددة بخط النهاية وخط منتصف الملعب وخطي الجانب .	١٧. منطقة الزوية الحدة (C)
في مساحة قوس الزوية الحدة بنصف قطر (١.٨٠) م بالاقسطة التي المساحة المرسومة اسفل السنة بطول (٥.٨٠) م ورض (٠.٩) م .	١٧. منطقة التصويب (D)



نموذج ٣

مادة واحدة
مدة الاختبار ٣٠ دقيقة
نوع الاختبار ٢ - شفهي (٢٠ رتبة)
نوع الأسئلة ٢ - شفهي (٢٠ رتبة)

المجال الأول - سطح الصفين من تعليم - لم يعلق منه ما على اليمين (من المادة ٢٠ - رتبة)

١٣ - في الطريقة الجديدة لتدريس اللغة العربية في المرحلة الابتدائية

١٤ - التدرج - المحاضرة - التصوير - التحكم بالحركة

١٥ - التدرج - المحاضرة - التصوير - التحكم بالحركة

١٦ - التدرج - المحاضرة - التصوير - التحكم بالحركة

١٧ - التدرج - المحاضرة - التصوير - التحكم بالحركة

١٨ - التدرج - المحاضرة - التصوير - التحكم بالحركة

١٩ - التدرج - المحاضرة - التصوير - التحكم بالحركة

٢٠ - التدرج - المحاضرة - التصوير - التحكم بالحركة

٢١ - التدرج - المحاضرة - التصوير - التحكم بالحركة

٢٢ - التدرج - المحاضرة - التصوير - التحكم بالحركة

٢٣ - التدرج - المحاضرة - التصوير - التحكم بالحركة

٢٤ - التدرج - المحاضرة - التصوير - التحكم بالحركة



نموذج ٣

مادة واحدة
مدة الاختبار ٣٠ دقيقة
نوع الاختبار ٢ - شفهي (٢٠ رتبة)
نوع الأسئلة ٢ - شفهي (٢٠ رتبة)

المجال الأول - سطح الصفين من تعليم - لم يعلق منه ما على اليمين (من المادة ٢٠ - رتبة)

١٣ - في الطريقة الجديدة لتدريس اللغة العربية في المرحلة الابتدائية

١٤ - التدرج - المحاضرة - التصوير - التحكم بالحركة

١٥ - التدرج - المحاضرة - التصوير - التحكم بالحركة

١٦ - التدرج - المحاضرة - التصوير - التحكم بالحركة

١٧ - التدرج - المحاضرة - التصوير - التحكم بالحركة

١٨ - التدرج - المحاضرة - التصوير - التحكم بالحركة

١٩ - التدرج - المحاضرة - التصوير - التحكم بالحركة

٢٠ - التدرج - المحاضرة - التصوير - التحكم بالحركة

٢١ - التدرج - المحاضرة - التصوير - التحكم بالحركة

٢٢ - التدرج - المحاضرة - التصوير - التحكم بالحركة

٢٣ - التدرج - المحاضرة - التصوير - التحكم بالحركة

٢٤ - التدرج - المحاضرة - التصوير - التحكم بالحركة



نموذج ٣

مادة واحدة
مدة الاختبار ٣٠ دقيقة
نوع الاختبار ٢ - شفهي (٢٠ رتبة)
نوع الأسئلة ٢ - شفهي (٢٠ رتبة)

المجال الأول - سطح الصفين من تعليم - لم يعلق منه ما على اليمين (من المادة ٢٠ - رتبة)

١٣ - في الطريقة الجديدة لتدريس اللغة العربية في المرحلة الابتدائية

١٤ - التدرج - المحاضرة - التصوير - التحكم بالحركة

١٥ - التدرج - المحاضرة - التصوير - التحكم بالحركة

١٦ - التدرج - المحاضرة - التصوير - التحكم بالحركة

١٧ - التدرج - المحاضرة - التصوير - التحكم بالحركة

١٨ - التدرج - المحاضرة - التصوير - التحكم بالحركة

١٩ - التدرج - المحاضرة - التصوير - التحكم بالحركة

٢٠ - التدرج - المحاضرة - التصوير - التحكم بالحركة

٢١ - التدرج - المحاضرة - التصوير - التحكم بالحركة

٢٢ - التدرج - المحاضرة - التصوير - التحكم بالحركة

٢٣ - التدرج - المحاضرة - التصوير - التحكم بالحركة

٢٤ - التدرج - المحاضرة - التصوير - التحكم بالحركة

(ب)	(أ)
١٠ - مساحة أرض المبنى الموجودة أسفل سلة الطريق خلفه ، والمحددة بخط النهاية وخط منتصف المبنى وخطي الجانبي .	٩ - منطقة الزريبة الحرة
١١ - مساحة قوس الزريبة الحرة أسفل سلة الطريق خلفه (١٠٠م) م (١٠٠م) م (١٠٠م) م (١٠٠م) م .	١٠ - منطقة التصويب بـ ٣ مناطق
١٢ - كل مساحة أرض المبنى باستثناء المنطقة القريبة من سلة الطريق والمحددة بقرص نصف قطر (١٠٠م) م ، وقرص مركز نقطة أسفل منتصف السلة .	١١ - منطقة العمودية
١٣ - مساحة مستطيلة المربعة أسفل السلة ، والمحددة بين خط النهاية وخط الزريبة الحرة وبعرض (١٠٠م) م .	١٢ - المنطقة الخلفية

- ١ - تأشير المبرزة والتدريس المتعمد الذي يعد أن يتلقى السلة أو منطقة زريبة المبرزة من أن سلة قوساً
- ٢ - عندما يملكه الطريق أكثر من ٢٤ تنبيه دون أن يمدان التصويب على السلة في تلك الوقت.
- ٣ - عندما يقوم أحد اللاعبين أو يعلق أو حركة عدم أي لاعب سائقين
- ٤ - تجاوز التجهيزات المتكامل ، نفس الحكم ، بإذن الطارئة أو التحفظ مع الطرف بدون التحكيم .
- ٥ - عدم لمس الكرة بالحكم .
- ٦ - عندما يتسبب لاعب في إخراج الكرة للمنطقة الخلفية بعد أن كان فريقه مستمرا على الكرة في المنطقة الأمامية .
- ٧ - يعلق اللاعب أكثر من ثلاث جازات متتالية في المنطقة العمودية الخاصة بالطريق المناطق حينما تكون الكرة في حوزة فريقه على أرض الملعب وخاصة سداً .
- ٨ - يستمر لاعب على الكرة وهي في حوزة أحد في المنطقة الخلفية لتدريبه أكثر من (١٠) جولات .

المجال الأول - سطح الصفين من تعليم - لم يعلق منه ما على اليمين (من المادة ٢٠ - رتبة)

١٣ - في الطريقة الجديدة لتدريس اللغة العربية في المرحلة الابتدائية

١٤ - التدرج - المحاضرة - التصوير - التحكم بالحركة

تاريخ السؤال الثالث * معالج: الأخطاء من متعدد * (قم بتظليل الحرف الذي يدل على الإجابة الصحيحة)

٢٤. كم عدد الأوقات المستقطعة لكل مدرب في مباراة كرة السلة .
 (A) أربعة (B) خمسة (C) ثلاثة (D) سبعة
٢٥. تبعد الطلقة عن التوجة مسافة
 (A) ١٥ سم (B) ٢٠ سم (C) ٢٥ سم (D) ٤٥ سم
٢٦. تعبر من الأخطاء الشائعة في مهارة مسك الكرة .
 (A) توزيع اصابع اليد (B) المرفقين للخارج (C) مسك الكرة (D) وضع راحة اليدين على جفني الكرة
٢٧. زمن الراحة بين الفترة الأولى والثانية أو الثالثة والرابعة دقيقة .
 (A) ٥ (B) ١٠ (C) ١٥ (D) ٢
٢٨. ما هو زمن الفترة في مباراة كرة السلة .
 (A) ١٠ دقائق (B) ٢٠ دقيقة (C) ٣٠ دقيقة (D) ٥ دقائق
٢٩. ما هي مدة زمن الوقت المستقطع الواحد .
 (A) ٩٠ ثانية (B) ١٢٠ ثانية (C) ٤٥ ثانية (D) ٦٠ ثانية
٣٠. هي المهارة التي يتوقف عليها نتيجة المباراة ، وهي المرحلة النهائية لخطت اللعب .
 (A) التصويب (B) التميرير (C) الإرتكاز (D) المحاورة
٣١. تستخدم عندما تحدث كرة ممسوكة أي يطبق على الكرة لاعبين أو أكثر من كلا الفريقين المتنافسين .
 (A) الحياة المتبادلة (B) كرة الفلز (C) رمية الإخخال (D) رمية حرة
٣٢. تحتسب الإصابة الناجحة من الرمية الحرة النقاط .
 (A) نقطتين (B) ثلاثة (C) أربعة (D) نقطة واحدة
٣٣. هو المسئول عن تلوين أسماء وارقام اللاعبين وتلوين أي نقاط يتم إجراؤها وكذلك الأخطاء التي تحدث .
 (A) الحكم الرئيسي (B) المعلق (C) مراقب المباراة (D) المسجل
٣٤. تنقسم مهارة إستلام الكرة إلى
 (A) باليدين ويبد واحدة (B) باليدين والقدمين (C) جميع ما سبق (D) ...
٣٥. هي من الأخطاء الشائعة في إستلام الكرة .
 (A) عدم الضغط بقوة (B) مد الذراعين (C) لتقدم باتجاه (D) عدم مد الذراعين باتجاه
- على الكرة باتجاه الكرة باتجاه الكرة

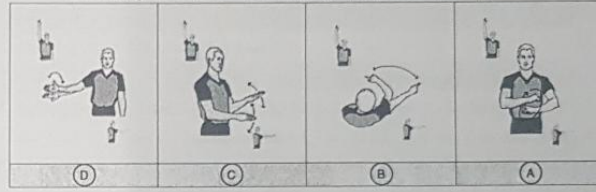
تابع السؤال الثالث * سوائل الإختيار من متعدد * (قم بتظليل الحرف الذي يدل على الإجابة الصحيحة)

٣٦. هو خط طولية (١٥) سم خارج ساحة اللعب وعلى خط الجانب مقابل طاولة التحكم ويبعد عن الحد النهائي (٨.٣٢٥) متر .
 (A) خط الرمية الحرة (B) خط المنتصف (C) خط الجانب (D) خط رمية الإخخال
٣٧. يجب على الفريق المستحوذ على الكرة التصويب على سلة المنافس خلال مدة لا تتجاوز .
 (A) ٨ ثواني (B) ٥ ثواني (C) ٣٠ ثانية (D) ٢٤ ثانية
٣٨. تصنف مهارة المحاورة ضمن المهارات .
 (A) الهجومية (B) الدفاعية (C) الهجومية (D) جميع ما سبق
٣٩. النقطة الوسطية التي تكون مركز قوس الدائرة المحدد لمنطقة التصويب ب ٣ نقاط يبعد عن الحد النهائي .
 (A) ١.٥٧٥ متر (B) ٢٠ سم (C) ١.٢٠ متر (D) ١.٥٤٥ متر
٤٠. تعبر من النقاط الهامة لوصف الأداء الفني لمهارة تصويب الرمية الحرة .
 (A) إنشاء كامل في (B) دفع الكرة بقوة (C) دفع الكرة بكلا (D) حمل الكرة على اصابع الركبتين وتصلب الذراعين اليدين معا
٤١. تبلغ فترة الراحة بين الفترة الثانية والثالثة دقيقة .
 (A) ٥ (B) ١٠ (C) ١٥ (D) ٢٠
٤٢. هي عملية الدفع المتتابع للكرة وتوجيهها للأرض بواسطة اصابع اليد وذلك بمد المرفق وحركة ترسغ .
 (A) التميرير (B) المحاورة (C) الخداع (D) التصويب
٤٣. زمن الوقت الإضافي في مباراة كرة السلة دقيقة .
 (A) ٥ (B) ١٠ (C) ١٥ (D) ٢٠
٤٤. طائفم التحكم في مباراة كرة السلة يتكون من عدد حكم .
 (A) ٢ (B) ٣ (C) ٥ (D) ٨
٤٥. ترسم خطوط الملعب بنفس اللون ، وسمكها (.....) سم ، وتكون مرتبة بوضوح .
 (A) ٣ (B) ٤ (C) ٥ (D) ١٠
٤٦. يبلغ عرض المنطقة المحرمة متر .
 (A) ٥.٨٠ (B) ٥.٤٠ (C) ٥.٨٠ (D) ٦.٧٥

السؤال الخامس

(كل مفردة 0.30 درجة)

(أ) * ظلل الحرف الذي يدل على نوع المخالفة التحكيمية المناسبة في كرة السلة *



73. حمل الكرة.

74. تنطيط مزدوج (الذيل دريل).

75. إرجاع الكرة للمنطقة الخلفية.

76. المشي بالكرة.

(ب) * ظلل الحرف الذي يدل على نوع الإشارة التحكيمية المناسبة في كرة السلة *



77. تسجيل ثلاثة نقاط.

78. محاولة التصويب بثلاثة نقاط.

79. إلغاء تسجيل الإصابة أو النقاط.

80. تسجيل نقطتين.

السؤال السادس

السؤال المقال

(6 درجات)

اذكر ثلاثة تصنيفات للمهارات الاساسية في رياضة كرة السلة ؟

مع تمييزنا بالنجاح والتوفيق

أ.م.د/ محمد رمضان لطفى / أ.م.د / محمود محمد العطا
 أ.د / محمود محمد نجيب / أ.د / أحمد حسام



BENHA UNIVERSITY



FACULTY OF PHYSICAL EDUCATION

Student ID

(.....)

خودك، اجابة واحدة فقط لاجله

اسم الطالب

اسم المادة

الفرقة

التصنيف الدراسي :

رقم التمتاح

- 0 1 2 3 4 5 6 7 8 9
- 0 1 2 3 4 5 6 7 8 9
- 0 1 2 3 4 5 6 7 8 9
- 0 1 2 3 4 5 6 7 8 9

- 1 2 3 4 5 6 7 8 9

- 1 A B C D
- 2 A B C D
- 3 A B C D
- 4 A B C D
- 5 A B C D
- 6 A B C D
- 7 A B C D
- 8 A B C D
- 9 A B C D
- 10 A B C D
- 11 A B C D
- 12 A B C D
- 13 A B C D
- 14 A B C D
- 15 A B C D
- 16 A B C D
- 17 A B C D
- 18 A B C D
- 19 A B C D
- 20 A B C D
- 21 A B C D
- 22 A B C D
- 23 A B C D
- 24 A B C D
- 25 A B C D
- 26 A B C D
- 27 A B C D
- 28 A B C D
- 29 A B C D
- 30 A B C D
- 31 A B C D
- 32 A B C D
- 33 A B C D
- 34 A B C D
- 35 A B C D
- 36 A B C D
- 37 A B C D
- 38 A B C D
- 39 A B C D
- 40 A B C D
- 41 A B C D
- 42 A B C D
- 43 A B C D
- 44 A B C D
- 45 A B C D
- 46 A B C D
- 47 A B C D
- 48 A B C D
- 49 A B C D
- 50 A B C D
- 51 A B C D
- 52 A B C D
- 53 A B C D
- 54 A B C D
- 55 A B C D
- 56 A B C D
- 57 A B C D
- 58 A B C D
- 59 A B C D
- 60 A B C D
- 61 A B C D
- 62 A B C D
- 63 A B C D
- 64 A B C D
- 65 A B C D
- 66 A B C D
- 67 A B C D
- 68 A B C D
- 69 A B C D
- 70 A B C D
- 71 A B C D
- 72 A B C D
- 73 A B C D
- 74 A B C D
- 75 A B C D
- 76 A B C D
- 77 A B C D
- 78 A B C D
- 79 A B C D
- 80 A B C D
- 81 A B C D
- 82 A B C D
- 83 A B C D
- 84 A B C D
- 85 A B C D
- 86 A B C D
- 87 A B C D
- 88 A B C D
- 89 A B C D
- 90 A B C D
- 91 A B C D
- 92 A B C D
- 93 A B C D
- 94 A B C D
- 95 A B C D
- 96 A B C D
- 97 A B C D
- 98 A B C D
- 99 A B C D
- 100 A B C D
- 101 A B C D
- 102 A B C D
- 103 A B C D
- 104 A B C D
- 105 A B C D
- 106 A B C D
- 107 A B C D
- 108 A B C D
- 109 A B C D
- 110 A B C D
- 111 A B C D
- 112 A B C D
- 113 A B C D
- 114 A B C D
- 115 A B C D
- 116 A B C D
- 117 A B C D
- 118 A B C D
- 119 A B C D
- 120 A B C D

د. ر. محمود محمد قنديل



Student ID

(.....)

اسم الطالب :

اسم المادة :

المرحلة : 1

الفصل الدراسي :

رقم النموذج : 1 2 3 4 5 6 7 8 9

- 1 A B C D
- 2 A B C D
- 3 A B C D
- 4 A B C D
- 5 A B C D
- 6 A B C D
- 7 A B C D
- 8 A B C D
- 9 A B C D
- 10 A B C D
- 11 A B C D
- 12 A B C D
- 13 A B C D
- 14 A B C D
- 15 A B C D
- 16 A B C D
- 17 A B C D
- 18 A B C D
- 19 A B C D
- 20 A B C D
- 21 A B C D
- 22 A B C D
- 23 A B C D
- 24 A B C D
- 25 A B C D
- 26 A B C D
- 27 A B C D
- 28 A B C D
- 29 A B C D
- 30 A B C D
- 31 A B C D
- 32 A B C D
- 33 A B C D
- 34 A B C D
- 35 A B C D
- 36 A B C D
- 37 A B C D
- 38 A B C D
- 39 A B C D
- 40 A B C D
- 41 A B C D
- 42 A B C D
- 43 A B C D
- 44 A B C D
- 45 A B C D
- 46 A B C D
- 47 A B C D
- 48 A B C D
- 49 A B C D
- 50 A B C D
- 51 A B C D
- 52 A B C D
- 53 A B C D
- 54 A B C D
- 55 A B C D
- 56 A B C D
- 57 A B C D
- 58 A B C D
- 59 A B C D
- 60 A B C D
- 61 A B C D
- 62 A B C D
- 63 A B C D
- 64 A B C D
- 65 A B C D
- 66 A B C D
- 67 A B C D
- 68 A B C D
- 69 A B C D
- 70 A B C D
- 71 A B C D
- 72 A B C D
- 73 A B C D
- 74 A B C D
- 75 A B C D
- 76 A B C D
- 77 A B C D
- 78 A B C D
- 79 A B C D
- 80 A B C D
- 81 A B C D
- 82 A B C D
- 83 A B C D
- 84 A B C D
- 85 A B C D
- 86 A B C D
- 87 A B C D
- 88 A B C D
- 89 A B C D
- 90 A B C D
- 91 A B C D
- 92 A B C D
- 93 A B C D
- 94 A B C D
- 95 A B C D
- 96 A B C D
- 97 A B C D
- 98 A B C D
- 99 A B C D
- 100 A B C D
- 101 A B C D
- 102 A B C D
- 103 A B C D
- 104 A B C D
- 105 A B C D
- 106 A B C D
- 107 A B C D
- 108 A B C D
- 109 A B C D
- 110 A B C D
- 111 A B C D
- 112 A B C D
- 113 A B C D
- 114 A B C D
- 115 A B C D
- 116 A B C D
- 117 A B C D
- 118 A B C D
- 119 A B C D
- 120 A B C D

د. م. محمود محمد حبيب

6.1. תאריך לידתו של אדם הוא 15.11.1978. מהו תאריך הולדתו של אביו?
 6.2. מהו תאריך הולדתו של אביו?

א. 15.11.1978
 ב. 15.11.1979
 ג. 15.11.1980
 ד. 15.11.1981

א. 15.11.1978
 ב. 15.11.1979
 ג. 15.11.1980
 ד. 15.11.1981

א. 15.11.1978
 ב. 15.11.1979
 ג. 15.11.1980
 ד. 15.11.1981

א. 15.11.1978
 ב. 15.11.1979
 ג. 15.11.1980
 ד. 15.11.1981

א. 15.11.1978
 ב. 15.11.1979
 ג. 15.11.1980
 ד. 15.11.1981

א. 15.11.1978
 ב. 15.11.1979
 ג. 15.11.1980
 ד. 15.11.1981

א. 15.11.1978
 ב. 15.11.1979
 ג. 15.11.1980
 ד. 15.11.1981

א. 15.11.1978
 ב. 15.11.1979
 ג. 15.11.1980
 ד. 15.11.1981

א. 15.11.1978
 ב. 15.11.1979
 ג. 15.11.1980
 ד. 15.11.1981

תאריך הולדתו של אביו: 15.11.1978

תאריך הולדתו של אביו: 15.11.1979

תאריך הולדתו של אביו: 15.11.1980

תאריך הולדתו של אביו: 15.11.1981

6.1. תאריך לידתו של אדם הוא 15.11.1978. מהו תאריך הולדתו של אביו?
 6.2. מהו תאריך הולדתו של אביו?

א. 15.11.1978
 ב. 15.11.1979
 ג. 15.11.1980
 ד. 15.11.1981

א. 15.11.1978
 ב. 15.11.1979
 ג. 15.11.1980
 ד. 15.11.1981

א. 15.11.1978
 ב. 15.11.1979
 ג. 15.11.1980
 ד. 15.11.1981

א. 15.11.1978
 ב. 15.11.1979
 ג. 15.11.1980
 ד. 15.11.1981

א. 15.11.1978
 ב. 15.11.1979
 ג. 15.11.1980
 ד. 15.11.1981

א. 15.11.1978
 ב. 15.11.1979
 ג. 15.11.1980
 ד. 15.11.1981

א. 15.11.1978
 ב. 15.11.1979
 ג. 15.11.1980
 ד. 15.11.1981

א. 15.11.1978
 ב. 15.11.1979
 ג. 15.11.1980
 ד. 15.11.1981

א. 15.11.1978
 ב. 15.11.1979
 ג. 15.11.1980
 ד. 15.11.1981

א. 15.11.1978
 ב. 15.11.1979
 ג. 15.11.1980
 ד. 15.11.1981

תאריך הולדתו של אביו: 15.11.1978

תאריך הולדתו של אביו: 15.11.1979

תאריך הולדתו של אביו: 15.11.1980

תאריך הולדתו של אביו: 15.11.1981

